

## Einmal rund um das Gymnasium Friedrich II.

Wenn du an unserem Quiz teilnehmen möchtest, dann mache am Wochenende mal mit der Familie einen Ausflug auf das Schäfersfeld. In Klasse 5 lernst du, was eine thematische Karte ist und darfst auch eine zeichnen. Mit einer Karte, die ein Fünftklässler vor einiger Zeit gezeichnet hat, musst du dich nun dort orientieren, um die folgenden Fragen zu beantworten.

1. Wenn du mit dem Bus zur Schule kommst, dann steigst du hier aus. Aber auch das Fahrrad ist ein viel genutztes Fortbewegungsmittel. Wie viele Fahrradständer zählst du neben der ersten Bushaltestelle?
2. Wenn du mit dem Zug kommst, musst du den Berg hinauflaufen. Dabei kommst du an einem weiteren Schulgebäude vorbei. Wie heißt diese Schule?
3. Oben angekommen stehst du vor dem Hauptgebäude. Von hier kannst du in die Aula schauen. Links ist der Aufenthaltsraum des Hauptgebäudes. Auch das Zimmer des Hausmeisters kannst du sehen. Er verkauft in den Pausen Backwaren und noch mehr. Kannst du erkennen, was eine Butterbrezel kostet?
4. Auf dem Schulhof direkt hinter dir siehst du, was du hier in den Pausen alles tun kannst: Tischtennis, Fußball oder Basketball spielen oder auf dem Trampolin springen. Außerdem haben sich hier mehrere Abi-Jahrgänge mit Schildern verewigt. Der Abi-Jahrgang 2008 hat drei Tiere auf seinem Schild, die dir bestimmt bekannt vorkommen. Um welche drei Tiere handelt es sich?
5. Hier stehst du auf dem Pausengelände vor den Naturwissenschaften. Rechts kannst du in den Physiksaal schauen. Der linke Flügel führt in die Biologie, in die Tiefe des Hauses hinein erreicht man noch den NwT- und den Chemiesaal. Geradeaus blickst du in den Aufenthaltsbereich vor den naturwissenschaftlichen Räumen mit seinen Schließfächern. Auf dem Hof findest du eine ganze Menge, was dir die Pause verschönern kann: Reckstangen, eine Kletterwand, viele Sitzgelegenheiten, manche sogar mit Tisch. Eine ganz wichtige Sache fehlt hier in der Aufzählung, nämlich?
6. Nun stehst du vor dem Nebengebäude. Hier befinden sich die Klassenzimmer der Klassen 5 bis 7, also vielleicht auch dein zukünftiges Klassenzimmer. Rechts von dir kannst du in die Ganztagesbetreuung schauen. Auch in diesem Gebäude kann man Schließfächer mieten, die du von deinem Standort aus sehen kannst. Viele Schülerinnen und Schüler nutzen das, um hier Bücher oder ihre Sportsachen zwischenzulagern und so nicht immer alles mit sich herumtragen zu müssen. Gib an, wie viele blaue Schließfächer hier nebeneinander stehen.
7. Vom Parkplatz aus kannst du in Richtung Lehrerzimmer schauen und siehst außerdem einen weiteren Fachraum. Auch hier wirst du Unterricht haben. Welcher Fachraum ist es: Geographie, Musik oder Bildende Kunst?
8. Hier ist ein Eingangstor. Bis um wie viel Uhr darf man den dahinterliegenden Platz benutzen?
9. Du stehst nun zwischen den beiden Sporthallen. Von hier hast du einen großartigen Blick zum Kloster Lorch. Wie heißt die östlich gelegene Halle? Tipp: Wenn du in diese einen Blick hineinwirfst, dann kannst du in drei Hallendrittel hinunterblicken und siehst auf deiner Höhe auch noch unsere Mensa.



Wenn du an unserem Quiz teilnehmen möchtest, dann besuche als erstes das Schäfersfeld und beantworte alle Fragen. Trage die Ergebnisse in die Tabelle ein und schicke ein Foto oder einen Scan des Lösungsblatts an

[schulquiz@gfii-schule.de](mailto:schulquiz@gfii-schule.de).

**Abgabeschluss ist der 12. März 2026.**

**Unter allen richtigen Einsendungen verlosen wir bei der Einschulungsfeier am 14. September 2026 drei attraktive Sachpreise.**

-----✂-----




Lösung Schulquiz:




## Einmal rund um das Gymnasium Friedrich II.

Name: \_\_\_\_\_ (Straße)  
\_\_\_\_\_ (Ort)

Frage Nummer	Antwort
1	
2	
3	
4	
5	
6	
7	
8	
9	



Schulgebäude:   
 Sportplatz:   
 Turn-; Sporthalle: 

Straße:   
 Bundesstraße:   
 Mischwald: 

bebaute Fläche:   
 Weg:   
 Parkplatz: 

Grünfläche:   
 Gaststätte:   
 Briefkasten: 